

Atención y concentración.

Busca las siguientes matrículas:

---Multiplicada por 3 da 5.676

---Dividida por 5 da 1.100

---Sumada a 250 da 4.500

---Sólo tiene números pares

--- Repite tres veces

---La suma de sus cifras es 19

---Es la mayor

---Se repite cuatro veces

1452-TMT	0110-KLM	4682- BEN	4218-BCN
1962-ASP	5500-ASM	4218-BCN	9423-OMN
2012-BEN	1452-TMT	4250-KPM	1452-TMT
2438-KPA	6271-BEN	1892-KPA	1313-MNT
7244-MNT	9055-ASP	5500-ASM	3422-KPA
1923-KLM	4218-BCN	9458-PTM	1452-TMT

Lenguaje.

Forma palabras usando solamente las siguientes letras. (No puedes utilizar otras letras)

F - A - L - T - O - N - M - E - S - A - C - R - I

Cálculo.

Escribe desde **216** hacia bajo de **4** en **4** hasta llegar a **0**.

216 – 212 –

.....

.....

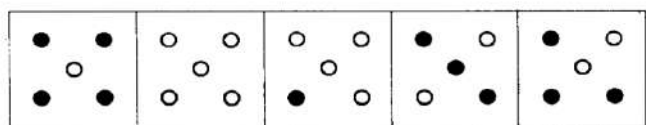

.....

.....

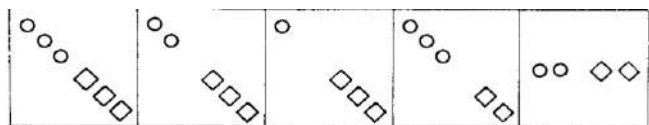
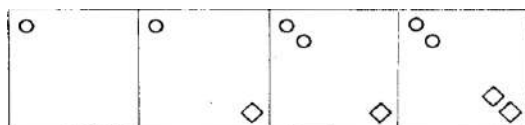
.....

Razonamiento Abstracto.

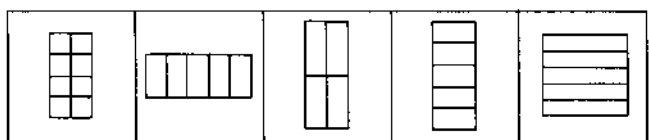
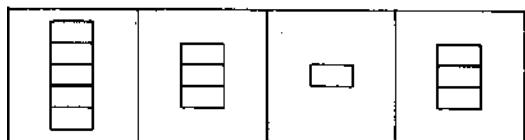
Siguiendo la secuencia de las figuras de la izquierda, sigue la serie eligiendo una de las 5 opciones que se plantean a la derecha.



A B C D E



A B C D E



A B C D E